


1. Sara nel portafoglio ha questi soldi.



Quanti euro ha Sara nel portafoglio?

- A. 421 euro
- B. 142 euro
- C. 124 euro

2. Chiara usa il righello per misurare la lunghezza della sua penna.



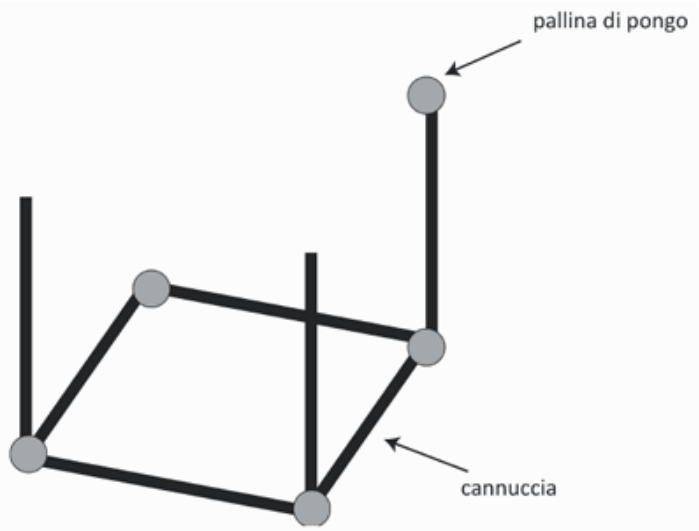
Quanto misura la penna di Chiara?

Risposta: circa cm

3. Gaia ha iniziato a costruire un cubo con cannucce e palline di pongo.

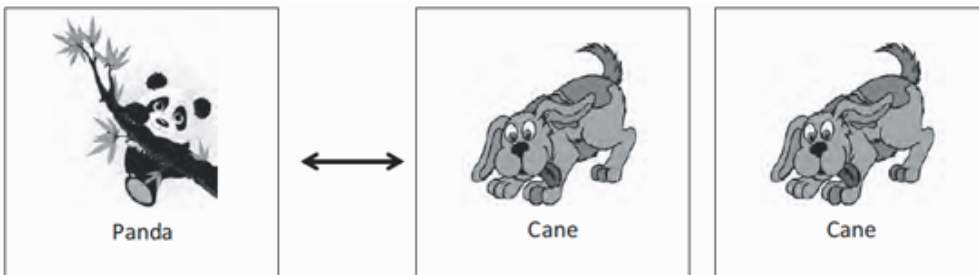
Per completare il cubo:

- a. Gaia deve ancora usare palline di pongo
- b. Gaia deve ancora usare cannucce



4. Anna e Bea giocano a scambiarsi le figurine.

Una figurina del panda vale come due figurine del cane.



Completa la frase con il numero corretto.

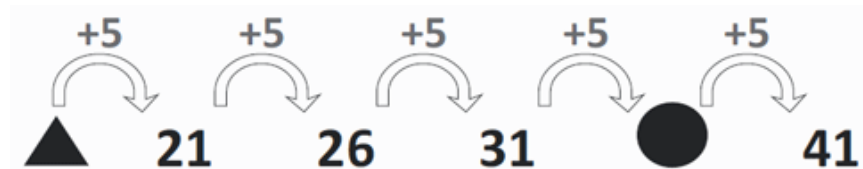
Anna dà a Bea 8 figurine del cane.



Bea deve dare in cambio ad Anna figurine del panda.

5. Quali delle seguenti uguaglianze è corretta?

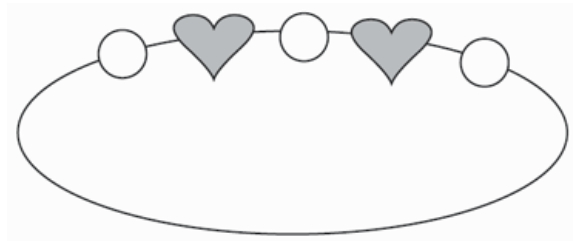
- A. $41 = 52 - 9$
- B. $41 = 50 - 9$
- C. $41 = 31 + 11$

6. Osserva.




- a. Sotto il  c'è il numero
- b. Sotto il  c'è il numero

7. Monica vuole fare dei braccialetti come questo.



Ha 8 cuoricini e 9 perline.



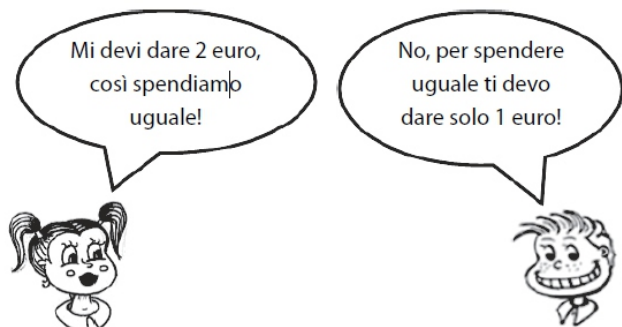
Quanti braccialetti può fare Monica?

8. Monica e Lorenzo vogliono andare al cinema. Il costo di un biglietto è di 7 euro.

a. Quanto costano 2 biglietti?

Risposta: euro

b. Monica ha 8 euro e Lorenzo ha 6 euro. Mettono insieme i soldi e comprano i due biglietti. Poi si mettono a discutere...



Chi ha ragione?

- A. Lorenzo
- B. Monica
- C. Nessuno dei due