


Ci sono 7 torte.

Sonia mette 2 candeline su ogni torta.

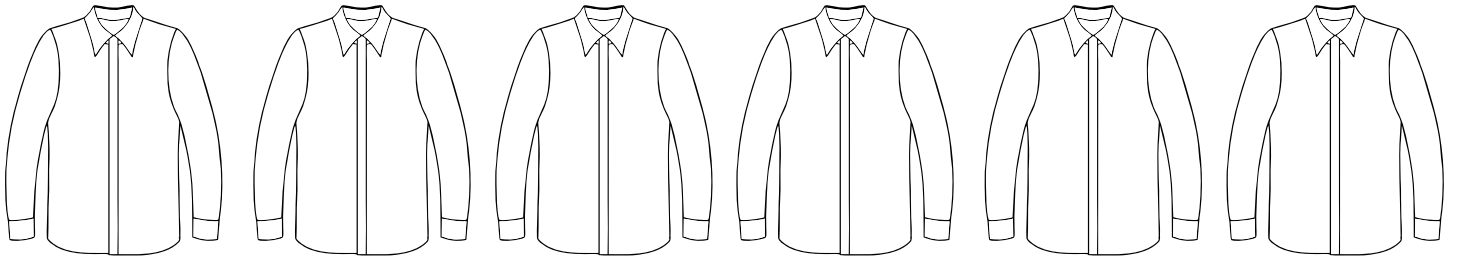
Quante candeline sono in tutto?



Ci sono 6 camicie.

Il sarto cuce 5 bottoni su ogni camicia.

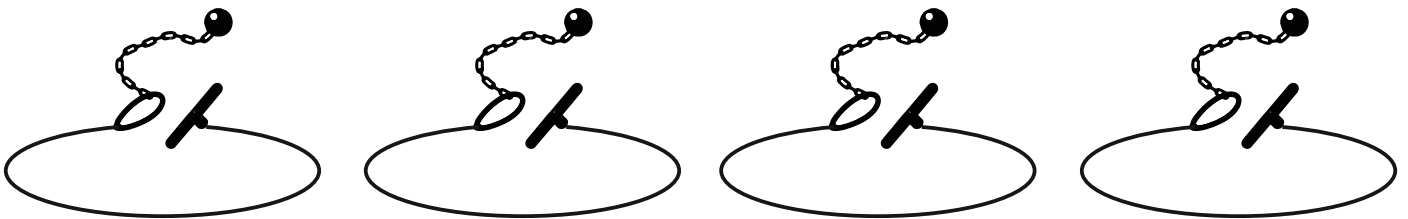
Quanti bottoni usa il sarto?



Ci sono 4 braccialetti.

Il gioielliere mette 10 perle in ogni braccialetto.

Quante perle gli servono?



Ci sono 5 sacchetti.

In ogni sacchetto ho messo 4 caramelle.

Quante caramelle sono in tutto?

