


Rita compra 2 sacchetti di mele al supermercato.

Ci sono 6 mele in ogni sacchetto.


Quante mele compra?



Ci sono 4 rami.

Ogni ramo ha 7 foglie.

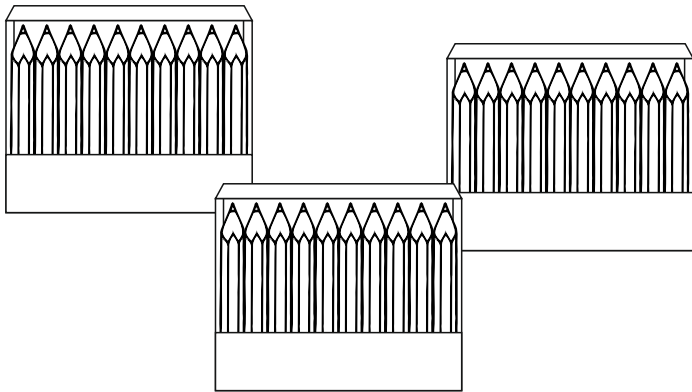
Quante foglie sono in tutto?



Ci sono 8 scarabei.

Ogni scarabeo ha 6 zampe.

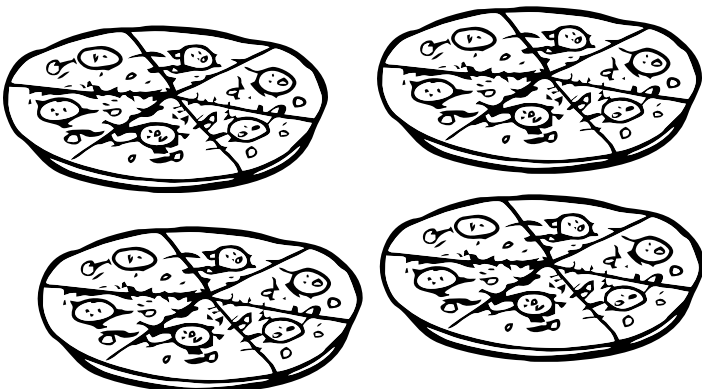
Quante zampe in tutto?



Ci sono 3 scatole.

Ogni scatola contiene 10 matite.

Quante matite sono in tutto?



Ci sono 4 pizze.

In ogni pizza sono state tagliate 6 fette.

Quante fette di pizza ci sono?