







I seguenti bambini sostengono di possedere ciascuno 1 euro.  
 Due di loro non dicono la verità. Conta le monete e completa.

	In centesimi	In euro
<b>ALBERTO</b> 		
<b>TOMMY</b> 		
<b>FEDERICO</b> 		
<b>MIRCO</b> 		
<b>DAVIDE</b> 		
<b>FRANCESCO</b> 		

\_\_\_\_\_ e \_\_\_\_\_ non possiedono 1 euro.

Quanto manca a \_\_\_\_\_ per raggiungere 1 euro? \_\_\_\_\_

Quanto manca a \_\_\_\_\_ per raggiungere 1 euro? \_\_\_\_\_