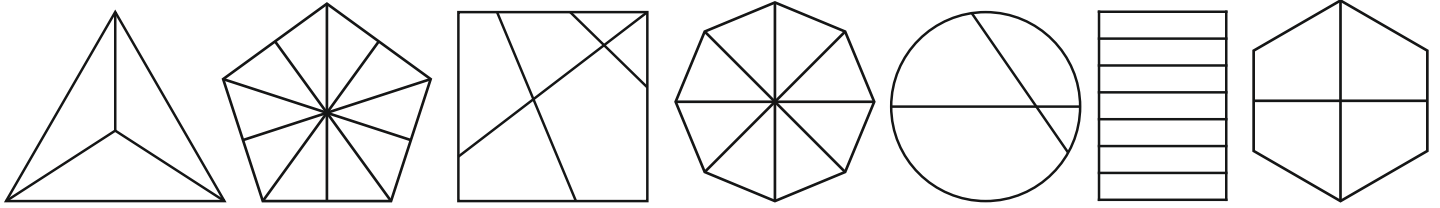
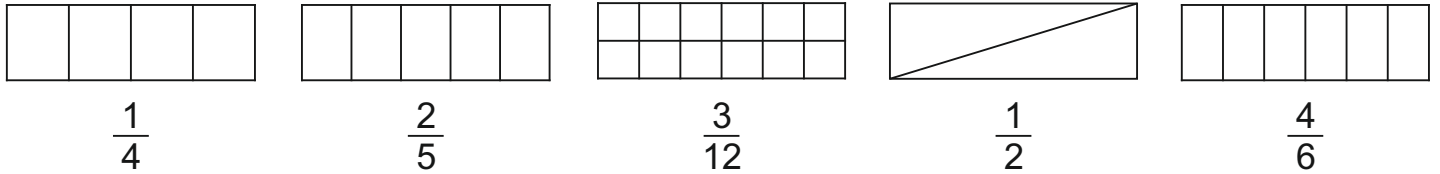


LE FRAZIONI

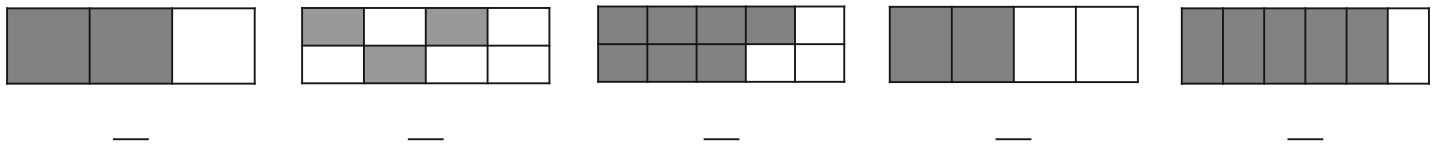
1. Colora solo i poligoni che sono stati frazionati.



2. Colora come indicato dalla frazione.



3. Scrivi le frazioni corrispondenti alle parti colorate.



4. Collega con una freccia ogni disegno alla frazione corrispondente.

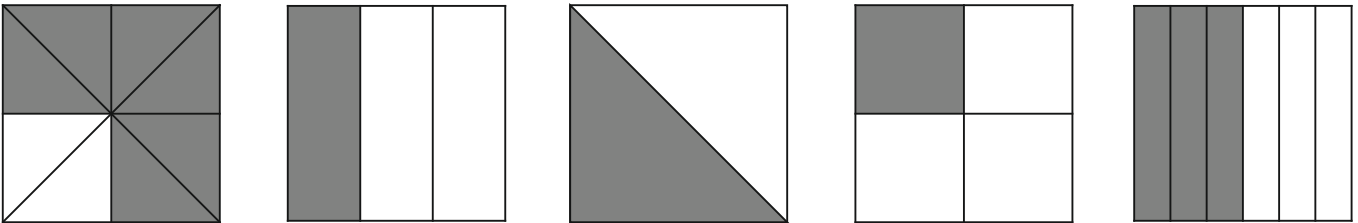
$\frac{1}{3}$

$\frac{1}{2}$

$\frac{3}{6}$

$\frac{6}{8}$

$\frac{1}{4}$



5. Luigi ha indicato nel grafico le condizioni del tempo a Rimini in settembre.

Osserva il grafico e completa le frazioni.

