



Scrivi una divisione per ogni schieramento

Fai gruppi di 3 torte. Quanti gruppi?




$$12 : 3 = \dots\dots$$

Fai gruppi di 6 fragole. Quanti gruppi?




$$\dots\dots : \dots\dots = \dots\dots$$

Fai gruppi di 4 zucche. Quanti gruppi?



$$\dots\dots : \dots\dots = \dots\dots$$

Fai gruppi di 2 gelati. Quanti gruppi?



$$\dots\dots : \dots\dots = \dots\dots$$

Fai gruppi di 6 hamburger. Quanti gruppi?




$$\dots\dots : \dots\dots = \dots\dots$$

Fai gruppi di 7 brioches. Quanti gruppi?




$$\dots\dots : \dots\dots = \dots\dots$$

Fai gruppi di 4 carote. Quanti gruppi?



$$\dots\dots : \dots\dots = \dots\dots$$

Fai gruppi di 7 pere. Quanti gruppi?



$$\dots\dots : \dots\dots = \dots\dots$$