

In un'aiuola sono state piantate 25 viole e 18 tulipani. Quante sono le viole in più dei tulipani?




In un'aiuola sono state piantate 25 viole e 18 tulipani. Quante sono le viole in più dei tulipani?




In un grande vaso la mamma ha messo 25 margherite, 18 viole, 6 rose e 8 tulipani. Quanti fiori ci sono nel vaso?




In un grande vaso la mamma ha messo 25 margherite, 18 viole, 6 rose e 8 tulipani. Quanti fiori ci sono nel vaso?



Ho comprato 5 sacchetti di bulbi di tulipano. In ogni sacchetto ci sono 25 bulbi. Quanti bulbi potrò piantare?



Ho comprato 5 sacchetti di bulbi di tulipano. In ogni sacchetto ci sono 25 bulbi. Quanti bulbi potrò piantare?



In un vivaio ci sono 350 abeti. Per le feste di Natale ne sono stati venduti 195. Quanti abeti ci sono ancora nel vivaio?



In un vivaio ci sono 350 abeti. Per le feste di Natale ne sono stati venduti 195. Quanti abeti ci sono ancora nel vivaio?

