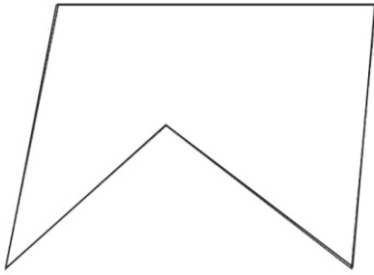
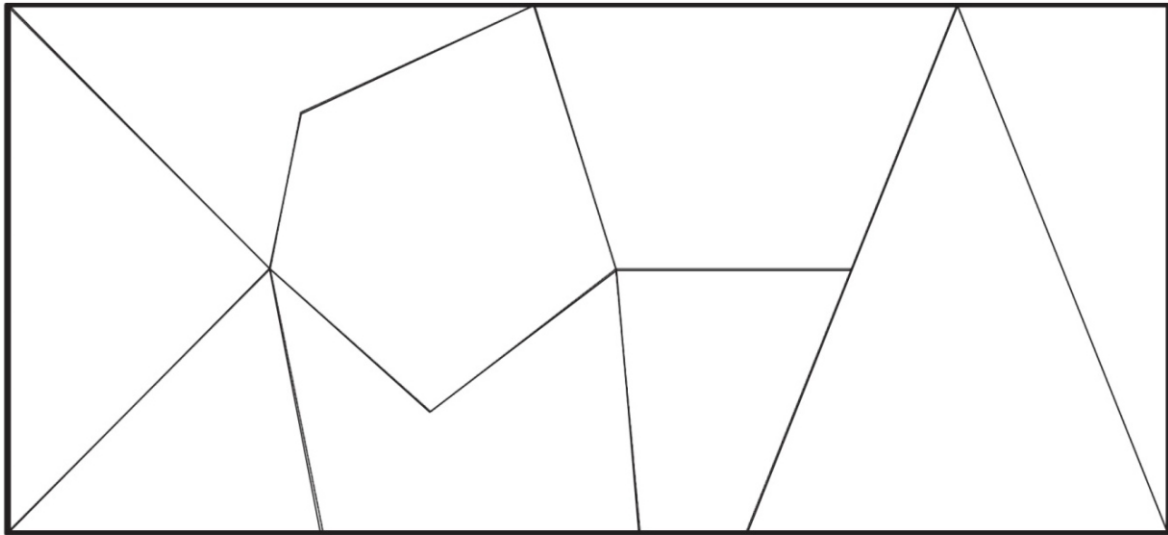


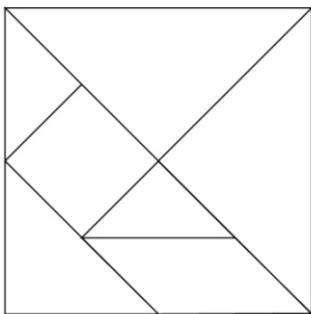
SF2_D1. Osserva questa forma.



Dove si trova la forma in questo disegno?
Trovala e segnala con una crocetta (X).



SF2_D2. Questo è il Tangram, un gioco cinese formato da sette pezzi.

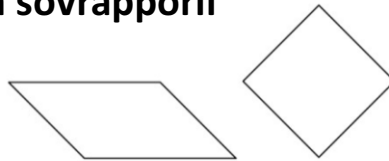


Maria e Antonio devono costruire questa figura.

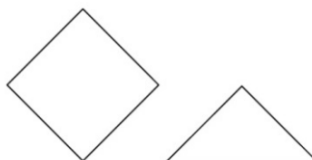


Possono usare solo due pezzi del Tangram,
senza sovrapporli

Maria sceglie questi pezzi:



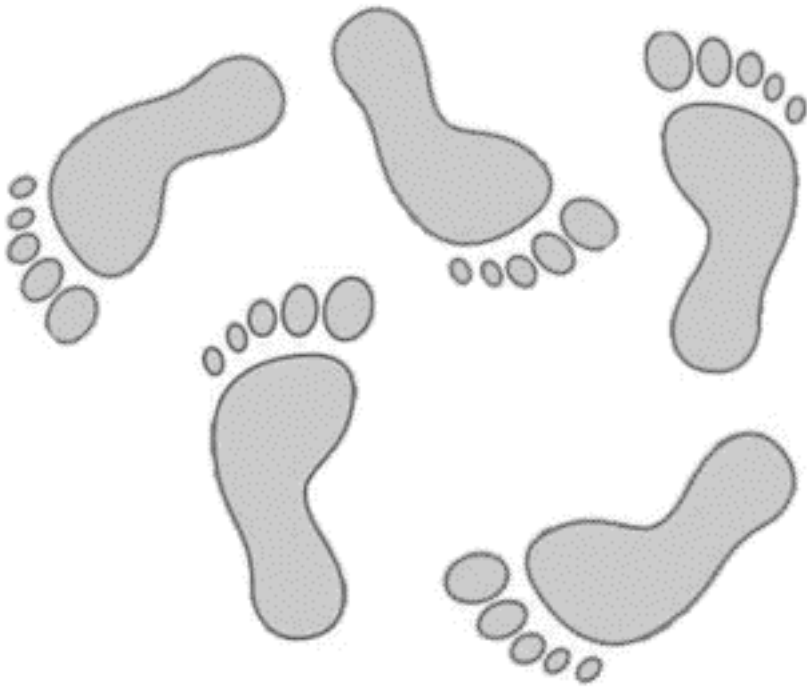
Antonio sceglie questi pezzi:



Chi riuscirà con i suoi pezzi a costruire la figura?

- A. Solo Maria
- B. Tutti e due
- C. Solo Antonio

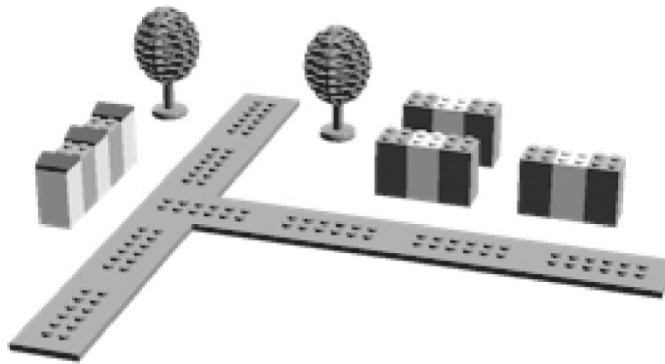
SF2_D3. Leonardo gioca a saltare sulla sabbia.



Quante impronte ha lasciato con il piede destro?

Risposta: impronte

SF2_D4. Marco ha realizzato questa costruzione.




Come si presenta la costruzione vista dall'alto?

A.



B.

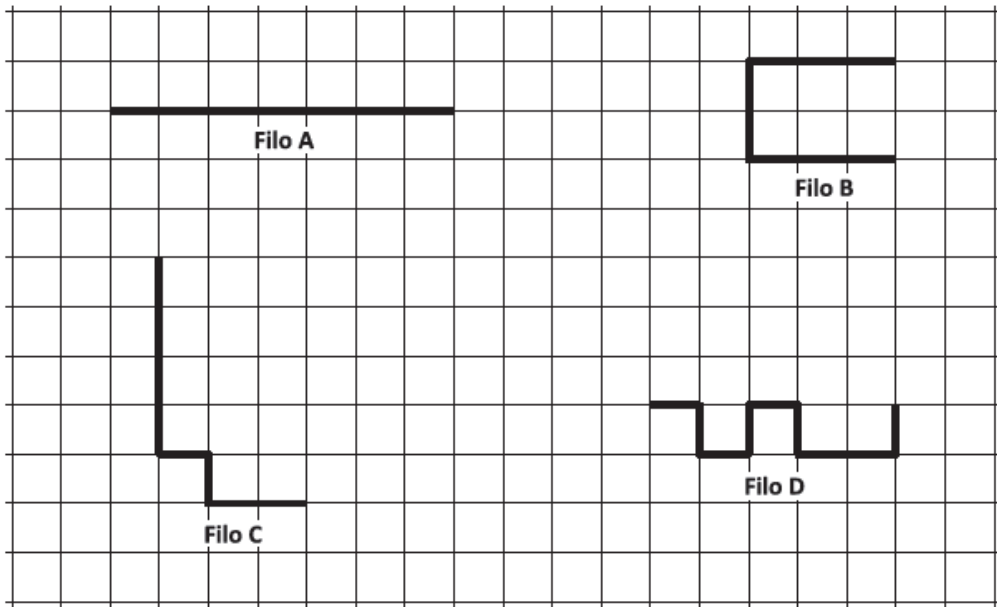


C.



SF2_D5. Anna ha piegato alcuni fili di ferro in questo modo.

Quali sono i due fili di ferro che hanno la stessa lunghezza?



- A. Il filo A e il filo B
- B. Il filo B e il filo C
- C. Il filo C e il filo D

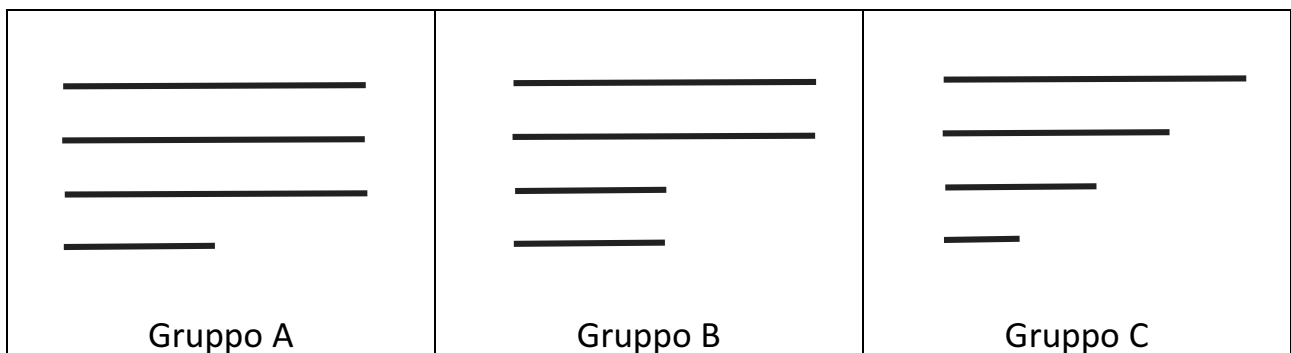
SF2_D6. Un pittore disegna una barca che si riflette nell'acqua.



Come apparirà il nome Maria nel riflesso?

- A. MARIA
- B. AIBAM
- C. MARIA


SF2_D7. Osserva questi gruppi di bastoncini.



Con quale gruppo puoi costruire un rettangolo?

Risposta: Gruppo


SF2_D8. Osserva.

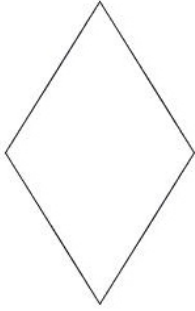




Quale affermazione è corretta?

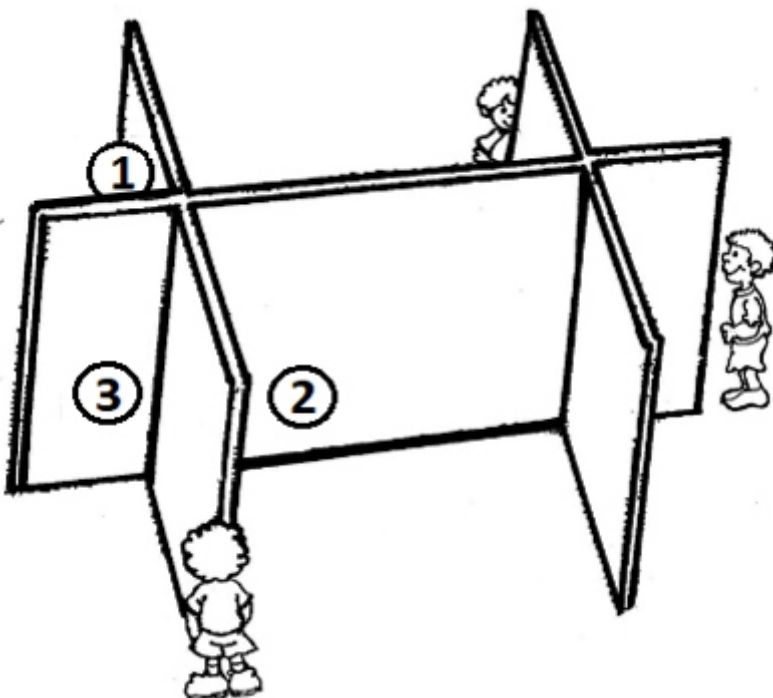
- A. La penna è più lunga del pennarello
- B. Il pennarello è più lungo della penna
- C. La penna e il pennarello hanno la stessa lunghezza

SF2_D9. Andrea ha fatto un buco in un cartoncino. Qual è il pezzo che ha tagliato?



		
A. <input type="checkbox"/>	B. <input type="checkbox"/>	C. <input type="checkbox"/>

SF2_D10. Tre bambini stanno cercando la palla per giocare ma nessuno dei tre adesso riesce a vederla. Dove è la palla?



- A. Nella posizione 1
- B. Nella posizione 2
- C. Nella posizione 3