


Problema con la domanda nascosta

Leggi con attenzione.

Per il ritorno a scuola, Sara ha fatto scorta di mascherine.
Ha 30 mascherine rosa e il doppio di mascherine azzurre.
Quante mascherine ha in tutto?



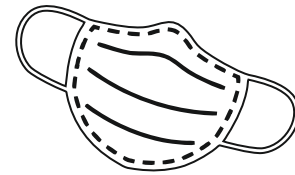
Scegli la domanda nascosta.

- Quante mascherine ha in tutto?
- Quante sono le mascherine azzurre?
- Quante sono le mascherine rosa?

Indica con una crocetta il completamento corretto.

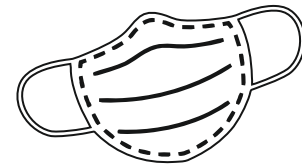
Per sapere quante mascherine ha in tutto, Sara deve calcolare:

- la somma delle mascherine rosa e azzurre.
- il doppio delle mascherine rosa.



Per sapere quante sono le mascherine azzurre deve calcolare:

- il doppio delle mascherine rosa
- la differenza tra le mascherine rosa e quelle azzurre.



Ora scrivi le operazioni necessarie per risolvere il problema.

.....

.....

Risposta: